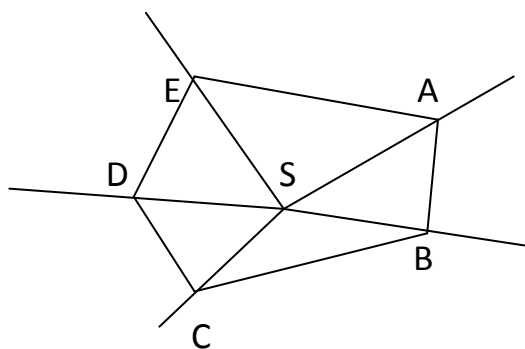


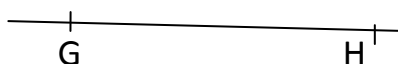


1. Zapiš všechny narýsované úsečky.



.....	.....
.....	.....
.....	.....
.....	.....
.....	.....

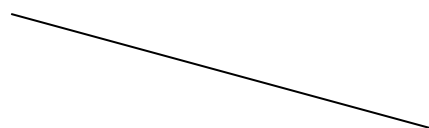

2. Zjisti a přiřaď.



křivá čára

přímá čára

úsečka



3. Spoj body E, F. Co vznikne? Doplň věty.

E x

x F

Spojením dvou bodů vznikne .....

Úsečka má ..... krajní body. Jejich vzdálenost se nazývá ..... úsečky.

4. Narýsuj úsečky KL, MN.